


Name: \_\_\_\_\_


Datum: \_\_\_\_\_

## Die Uhrzeit




In wie viel Minuten ist es 8 Uhr?

In \_\_\_\_\_ Minuten.




Wie viel Uhr war es vor einer Viertel Stunde?

Es war \_\_\_\_\_ Uhr.




Wie spät war es vor einer halben Stunde?

Es war \_\_\_\_\_ Uhr.



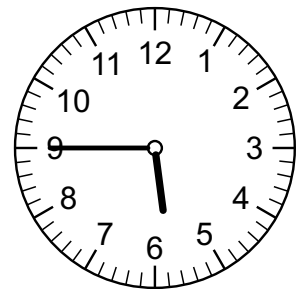
Wie spät ist es in einer Viertel Stunde?

Es ist \_\_\_\_\_ Uhr.



In wie vielen Minuten ist es 15 Uhr ?

In \_\_\_\_\_ Minuten.

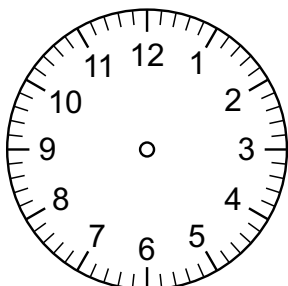


In 15 Minuten ist es wie viel Uhr?

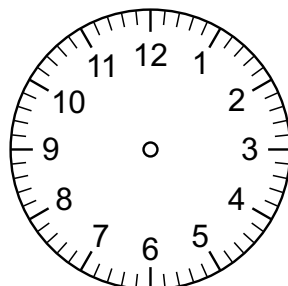
Es ist \_\_\_\_\_ Uhr.



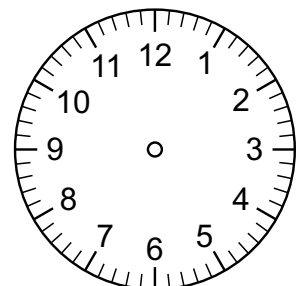
**Welche Uhrzeit ist gesucht? Zeichne ein!**



In 20 Minuten ist es 16 Uhr.



Vor 25 Minuten war es 11:30 Uhr.



In einer dreiviertel Stunde ist es 9 Uhr.